

Mein Name : \_\_\_\_\_

Mathe Klasse 4

WIE GUT KANNST DU DAS ?







Grundlagen Kommarechnung x.1

>> rechne bitte schriftlich und gib dann das Ergebnis ein <<

Auf Sarah`s Teller liegen ein ganzer Apfel und ein durchgeschnittener halber Apfel. Ihre Schwester Julia bekommt ebenso einen ganzen - und einen halben Apfel auf ihren Teller. Mama hat zwei ganze - und zwei halbe Äpfel verteilt.

Ein ganzer Apfel = 1,0 und ein halber Apfel = 0,5 = 5 Teile vom Ganzen = 5 Zehntel. Die Aufgabe lautet dann : ein ganzer Apfel + ein halber Apfel x zwei Teller = Äpfel

$$1,5 \quad \times \quad 2 \quad = \quad \underline{\underline{3,0}}$$

1	,	5		x	2	=	3	,	0
	,							,	
		<- 1							
	,								

Sarah schwimmt liebend gerne im Schwimmbad Elmshorn. Das Eintrittsgeld beträgt DM 1,70

Sarah geht drei Mal in der Woche schwimmen.

Wie viel Eintrittsgeld braucht Sarah jede Woche ?

$$1,7 \quad \times \quad 3 \quad = \quad \underline{\underline{5,1}}$$

Julia hat zwei Mäuse - richtig lebendige - die auch viel Pflege, Liebe und sauberes Heu und Nahrung brauchen. Im Schnitt kostet der Unterhalt der Mäuse pro Woche DM 4,50 - im Monat ( vier Wochen ) demnach :

$$4,5 \quad \times \quad 4 \quad = \quad \underline{\underline{18,0}}$$

Julia versendet am Tag etwa eine SMS - eine SMS kostet DM 0,39.

Nach zehn Tagen erhält Julia eine Teilrechnung für Ihre SMS.

$$0,39 \quad \times \quad 10 \quad = \quad \underline{\underline{3,9}}$$